



เด็ก ๆ สังเกตดูสิว่าใครสูงกว่ากัน แล้วเขียนเลข 1 – 3 เรียงตามลำดับ
ความสูงของเด็กจากเตี้ยไปหาสูง ไว้ในช่อง นะจ๊ะ



1

2

3



2

3

1




1

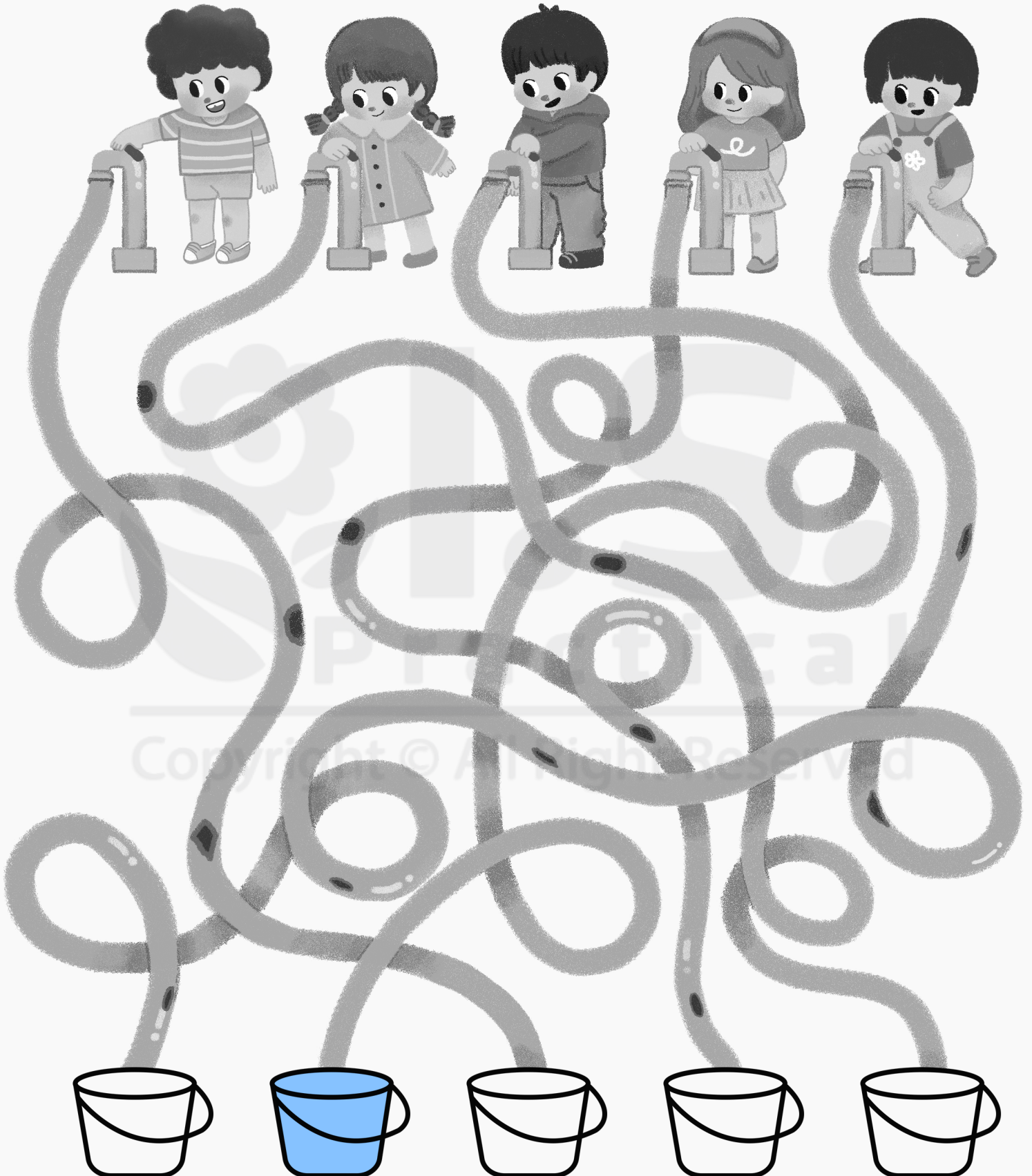
2

3


ใบไม้ร่วงมาจากต้นไหน ลากเส้นจากต้นไม้
ไปเก็บใบไม้ให้ครบนะจ๊ะหนู ๆ




ถึงน้ำใบไหนที่รองรับน้ำจากสายยางที่ไม่มีรอยรั่วเลย
ระบายสีน้ำใบนั้นให้หน่อยจ้ะ




เขียนตัวอักษรที่เป็นคำตอบในช่องที่ต่อภาพได้พอดีให้หน่อยจะ





A




B




C




D



E




F



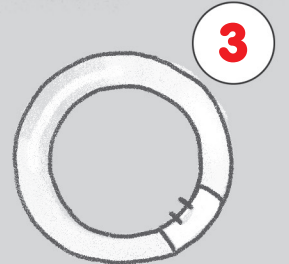
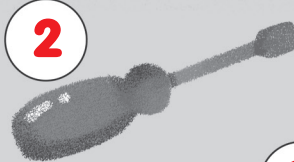







เด็ก ๆ เลือกสติ๊กเกอร์มาติดในช่อง เพื่อต่อภาพหุ่นยนต์ให้ครบสมบูรณ์และโยงเส้นจับคู่หุ่นยนต์ที่เหมือนกันให้หน่อยจะ






ของชิ้นไหนควรจะเก็บไว้ในชั้นไหน
เขียนเลขชั้นที่เก็บไว้ใน ให้หน่อยนะจ๊ะ






เด็ก ๆ ลากเส้นจับคู่ภาพที่เป็นเหตุและเป็นผลกัน
โดยไม่ให้เส้นที่ลากทับกันนะจ๊ะ





เด็ก ๆ ลากเส้นจากภาพในกรอบไปหาภาพที่เป็นเรื่องเดียวกัน
เรียงตามลำดับ และเล่าเรื่องให้ฟังหน่อยว่าเด็ก ๆ เล่นอะไรกันจะ



Copyright © All Right Reserved




เด็ก ๆ เขียนตัวเลข 1 - 4 เรียงลำดับเรื่องราว
ก่อนหลังแล้วเล่าให้ฟังหน่อยจ้ะ




Copyright © All Right Reserved






ในกระบะมีของหลายอย่างที่นำไปซ่อนในกล่อง เด็ก ๆ อ่านคำใบ้ข้างกล่อง แล้วคิดว่าจะเป็นอะไร ช่วยติดสติ๊กเกอร์ใน  ให้หน่อยจ้ะ



พ่อครัวกำลังจัดอาหารใส่จาน จานสีฟ้าสำหรับคนที่รับประทานเนื้อสัตว์
จานสีเหลืองสำหรับคนที่รับประทานผักผลไม้
เด็ก ๆ ช่วยเลือกสติกเกอร์รูปอาหารมาติดให้ถูกต้อง
และดูซิว่าอาหารอะไรเหลืออยู่ในถาดบ้างจ๊ะ














เมื่อเด็ก ๆ นำชิ้นส่วนมาต่อกัน จะเป็นคำศัพท์เกี่ยวกับอวัยวะอะไร
เขียนลงใน ให้หน่อยจ้ะ




HAND

เด็ก ๆ ช่วยเขียนตัวอักษรของภาพคำตอม
ที่เป็นพวกเดียวกันมาต่อให้หน่อยจ้ะ






เด็ก ๆ โยงเส้นพาพี่ไปหาน้องหน่อยจ้ะ



น้องเป็นเด็กผู้หญิง
ใส่แว่นนั่งเก้าอี้สีแดง



น้องใส่เสื้อลายนั่งอยู่
ระหว่างเด็กที่นั่งเก้าอี้
สีแดง




น้องไม่ได้ที่นั่งเก้าอี้สีแดง
น้องนั่งอยู่ระหว่างเด็ก
ผู้ชายและเด็กผู้หญิงที่
ใส่แว่น




น้องนั่งอยู่ใกล้เด็กผู้ชาย
ใส่เสื้อลาย น้องนั่งอยู่
ระหว่างเด็กที่นั่งเก้าอี้สีแดง

ผลงานวาดต่อเติมจากวงกลมของเด็ก ๆ ติดอยู่ที่บอร์ดรูปไหนเป็นของใคร
เด็ก ๆ ช่วยวาดภาพในช่อง ให้เจ้าของภาพหน่อยจะ










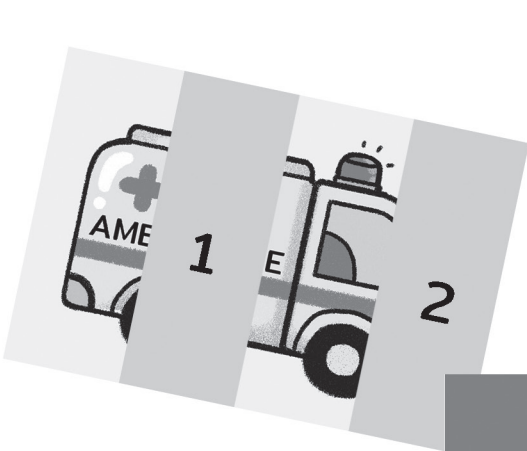


ตัวอย่าง





เด็ก ๆ ช่วยต่อภาพรถให้สมบูรณ์ให้หน่อยจะ ตรงไหนจะต่อภาพชิ้นไหน
 ให้นำตัวเลขที่ตำแหน่งนั้นไปเขียนที่ภาพชิ้นส่วนนั้นจะ





เด็ก ๆ นำชิ้นส่วนมาต่อกัน จะเป็นคำศัพท์เกี่ยวกับสัตว์อะไร
เขียนในช่อง นะจ๊ะ

~~T E~~

~~P I E R~~

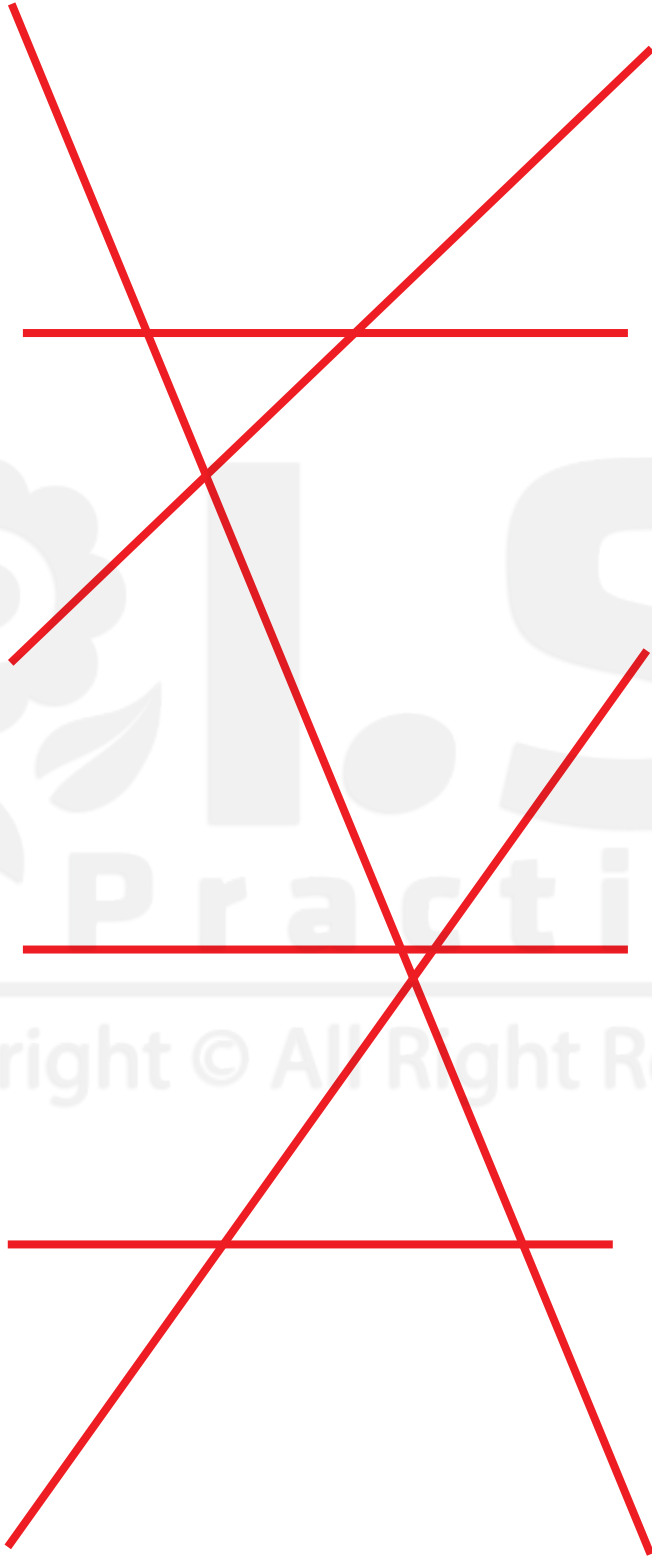
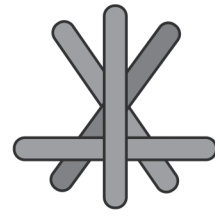
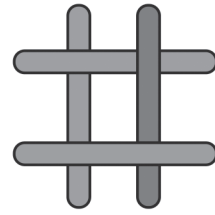




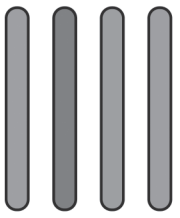

Copyright © All Right Reserv

T I G E R










เมื่อนำไม้ไอศกรีม 4 สีมาวางซ้อนทับกันตามลำดับ
จะเกิดเป็นภาพไหน เด็ก ๆ โยงเส้นจับคู่ให้หน่อยจะ



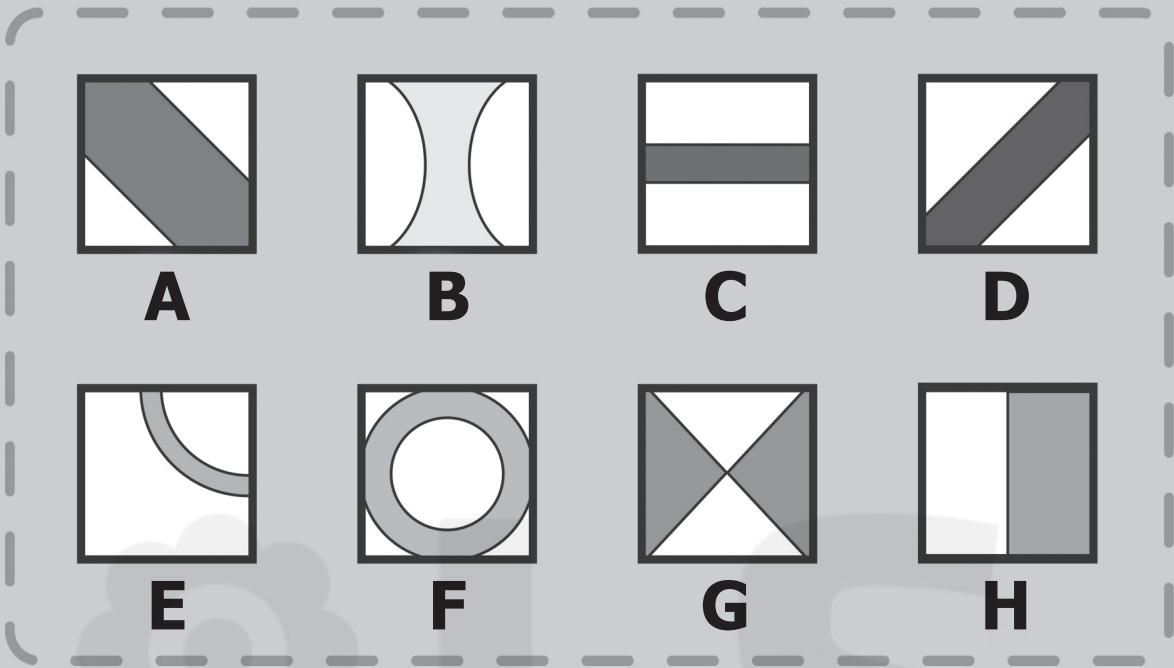


คุณแม่จะเอาขนม 9 ชิ้นใส่กล่องให้ครบพอดี เด็ก ๆ คิดว่าจะเลือกกล่องไหนให้ช้ตถูก ✓ ทับกล่องนั้นให้หน่อยจะ





ภาพด้านล่าง เกิดจากการนำภาพหลายภาพมาวางซ้อนทับกัน
 เด็ก ๆ ช่วยเขียนตัวอักษรลงใน  แสดงลำดับการซ้อนภาพให้หน่อยจะ



F → **C**



G → **B**



H → **D** → **E**



A → **C** → **F**



C → **B** → **H**



G → **E** → **D**



B → **E** → **G**



F → **C** → **A**

ที่ชั้นวางรองเท้า มีรองเท้าของใครอยู่ตรงไหน
โยงเส้นพาพี่ ๆ ไปหารองเท้าหน่อยจ๊ะ



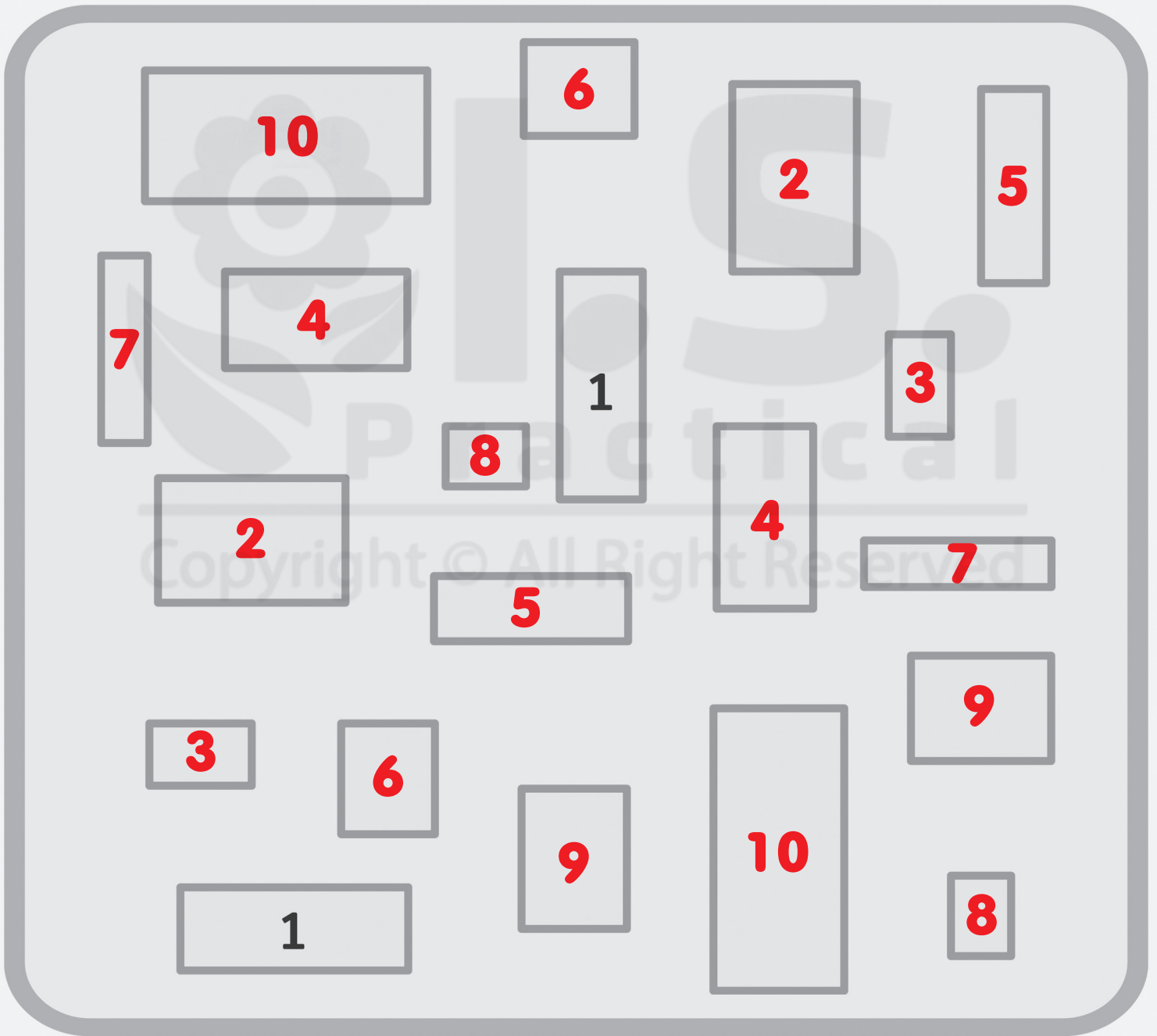
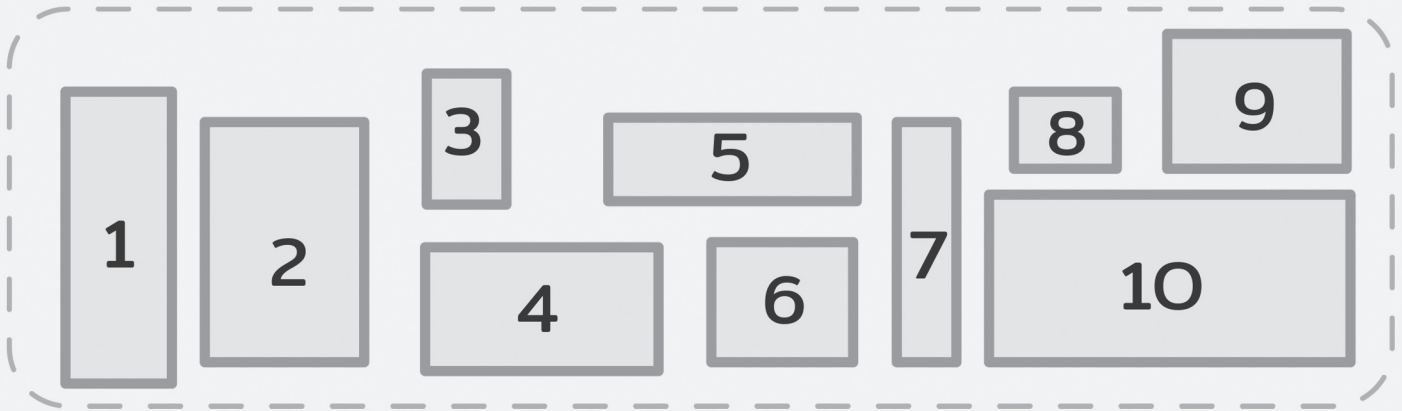
รองเท้าวางอยู่ระหว่างรองเท้าสีฟ้ากับสีส้ม

รองเท้าวางอยู่ที่เลขคู่ติดกับรองเท้าสีเหลือง

รองเท้าวางอยู่ที่เลขคู่ระหว่างรองเท้าสีเขียวกับสีเหลือง

รองเท้าไม่ได้วางอยู่ที่เลขคู่และอยู่ระหว่างรองเท้าสีเหลืองกับสีส้ม

เด็ก ๆ เขียนตัวเลขในสี่เหลี่ยมผืนผ้าที่มีขนาดเท่ากันพอดีนะคะ



น้องจัดตุ๊กตาใส่ในชั้นช่องละ 1 ตัว ตัวไหนอยู่ช่องไหน
เด็ก ๆ ดัดสติ๊กเกอร์ให้ถูกช่องนะคะ



หมีอยู่ชั้นบนสุด



เพนกวินอยู่ชั้นเดียวกับกบแต่ไม่ได้อยู่ติดกัน



แกะอยู่ชั้นล่างช่องซ้ายสุด



วาฬอยู่ระหว่างแกะกับไก่



กบอยู่เหนือช่องแกะ



เปิดอยู่ช่องต่อจากไก่



หมาอยู่ใต้หมีและอยู่ติดกับกระต่าย



แมวจะอยู่ช่องไหน?





ในตึกนี้มีใครอยู่ห้องไหน ฟังคำสั่ง
แล้วติดสติ๊กเกอร์ให้ถูกต้องนะจ๊ะ



อยู่ชั้นล่างห้องแรก



อยู่ห้องกลางของตึก



อยู่เหนือห้อง



อยู่ใกล้บันได
หนีไฟชั้นเดียวกับ



อยู่ต่อจากห้อง



อยู่ใต้ห้อง



อยู่ชั้นเดียวกัน
แต่ห้องไม่ติดกัน



อยู่ระหว่างห้อง












กับ












อยู่ห้องไหนนะ










จากลายแทงบอกตำแหน่งของสมบัติ
เด็ก ๆ จะขุดเจออะไรที่ช่องไหนวาดรูปให้ถูกช่องนั้นจะ

		
<input type="checkbox"/>	<input checked="" type="checkbox"/>	<input type="checkbox"/>
<input type="checkbox"/>	<input type="checkbox"/>	<input checked="" type="checkbox"/>
<input checked="" type="checkbox"/>	<input type="checkbox"/>	<input type="checkbox"/>
		
<input type="checkbox"/>	<input type="checkbox"/>	<input checked="" type="checkbox"/>
<input type="checkbox"/>	<input type="checkbox"/>	<input checked="" type="checkbox"/>
<input checked="" type="checkbox"/>	<input type="checkbox"/>	<input type="checkbox"/>
		
<input checked="" type="checkbox"/>	<input type="checkbox"/>	<input type="checkbox"/>
<input type="checkbox"/>	<input checked="" type="checkbox"/>	<input type="checkbox"/>
<input type="checkbox"/>	<input type="checkbox"/>	<input checked="" type="checkbox"/>










		
		
		

ตัวอย่าง

		
<input checked="" type="checkbox"/>	<input type="checkbox"/>	<input type="checkbox"/>
<input type="checkbox"/>	<input checked="" type="checkbox"/>	<input checked="" type="checkbox"/>
<input type="checkbox"/>	<input type="checkbox"/>	<input type="checkbox"/>
		
<input type="checkbox"/>	<input checked="" type="checkbox"/>	<input type="checkbox"/>
<input type="checkbox"/>	<input checked="" type="checkbox"/>	<input type="checkbox"/>
<input type="checkbox"/>	<input type="checkbox"/>	<input checked="" type="checkbox"/>
		
<input type="checkbox"/>	<input checked="" type="checkbox"/>	<input type="checkbox"/>
<input checked="" type="checkbox"/>	<input type="checkbox"/>	<input type="checkbox"/>
<input type="checkbox"/>	<input type="checkbox"/>	<input checked="" type="checkbox"/>














ถอดรหัสตัวเลขบนเสื้อลูกสัตว์ และนำสติ๊กเกอร์มาติดที่ป้ายให้สัมพันธ์กันจะ

1	2	3	4	5

6	7	8	9	0
○	△	□	□	▽


ตัวอย่าง
27
△
19
■



เสื้อของผม
มีเลขอะไร:

เด็ก ๆ ช่วยพีคิดหนอยวจากคำสั่ง พีจะไปซื้ออะไร วาดภาพลงในช่อง
 และจะเขียนลูกศรภาพพีเดินทางไปซื้อของใน ให้หนอยจะ





ตัวอย่าง

ผลไม้ที่มีรสหวานฉ่ำ



ขนมมีรู



อาหารรสหวานและเย็น



ขนมไปให้วันเกิดน้อง



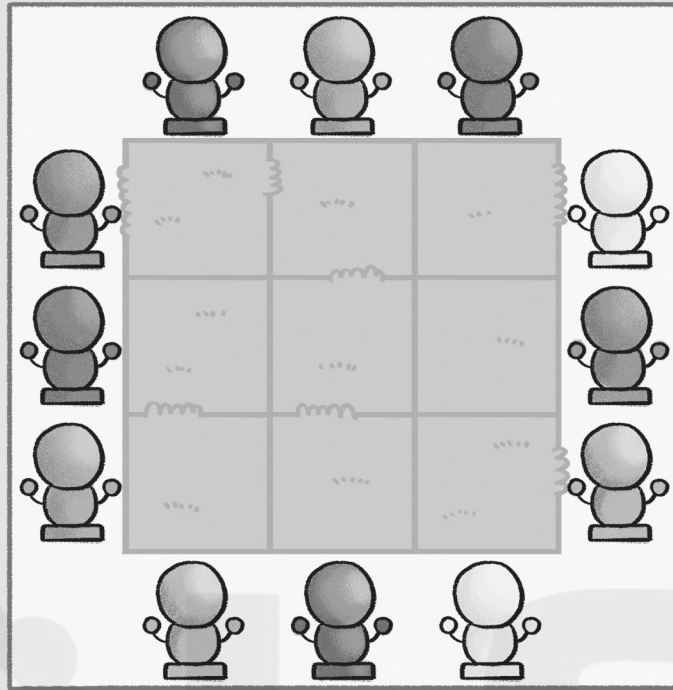
ผลไม้ที่เป็นพวง








ผลไม้ที่ผิวขรุขระ



เด็ก ๆ พาดักตาไปหาดักตาที่สีเหมือนกัน
 เส้นทางไหนเป็นของดักตาสีอะไร ช่วยระบายสีดักตาให้หน่อยจ้ะ

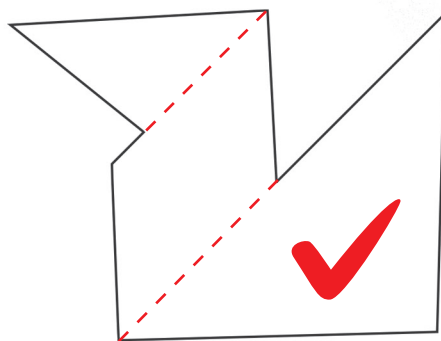
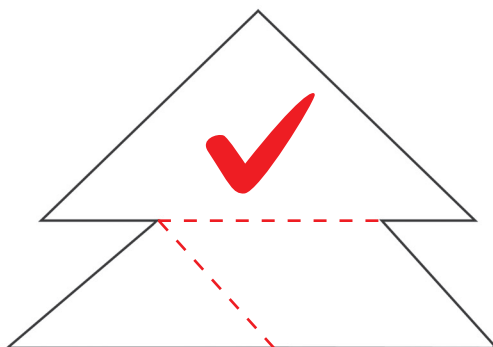
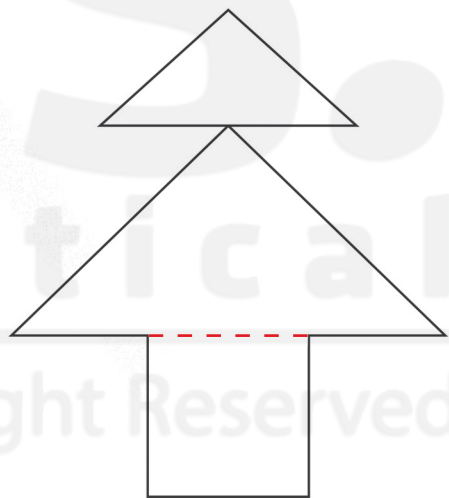
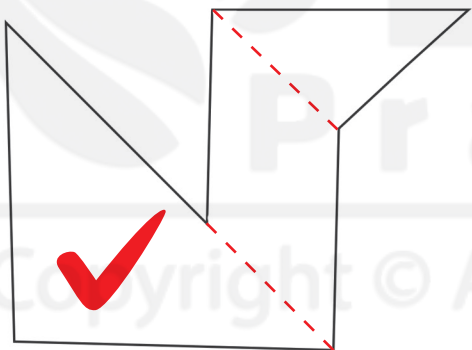
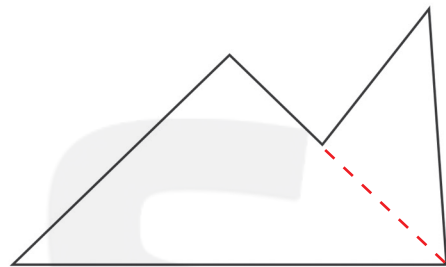
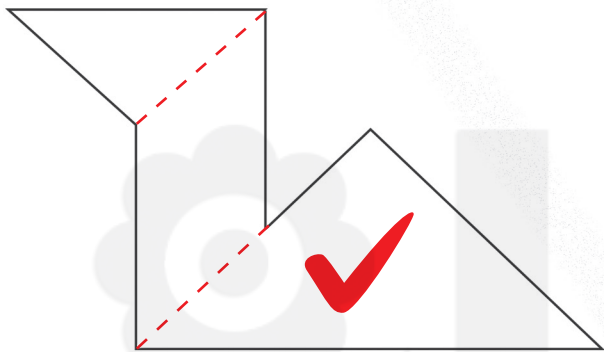
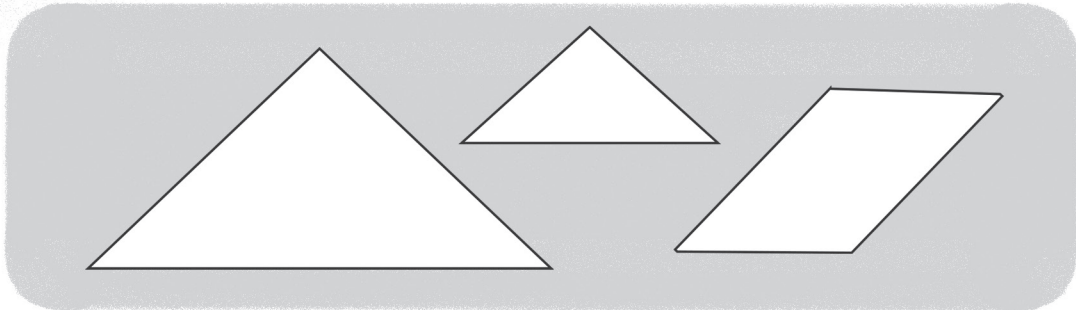


ตัวอย่าง    



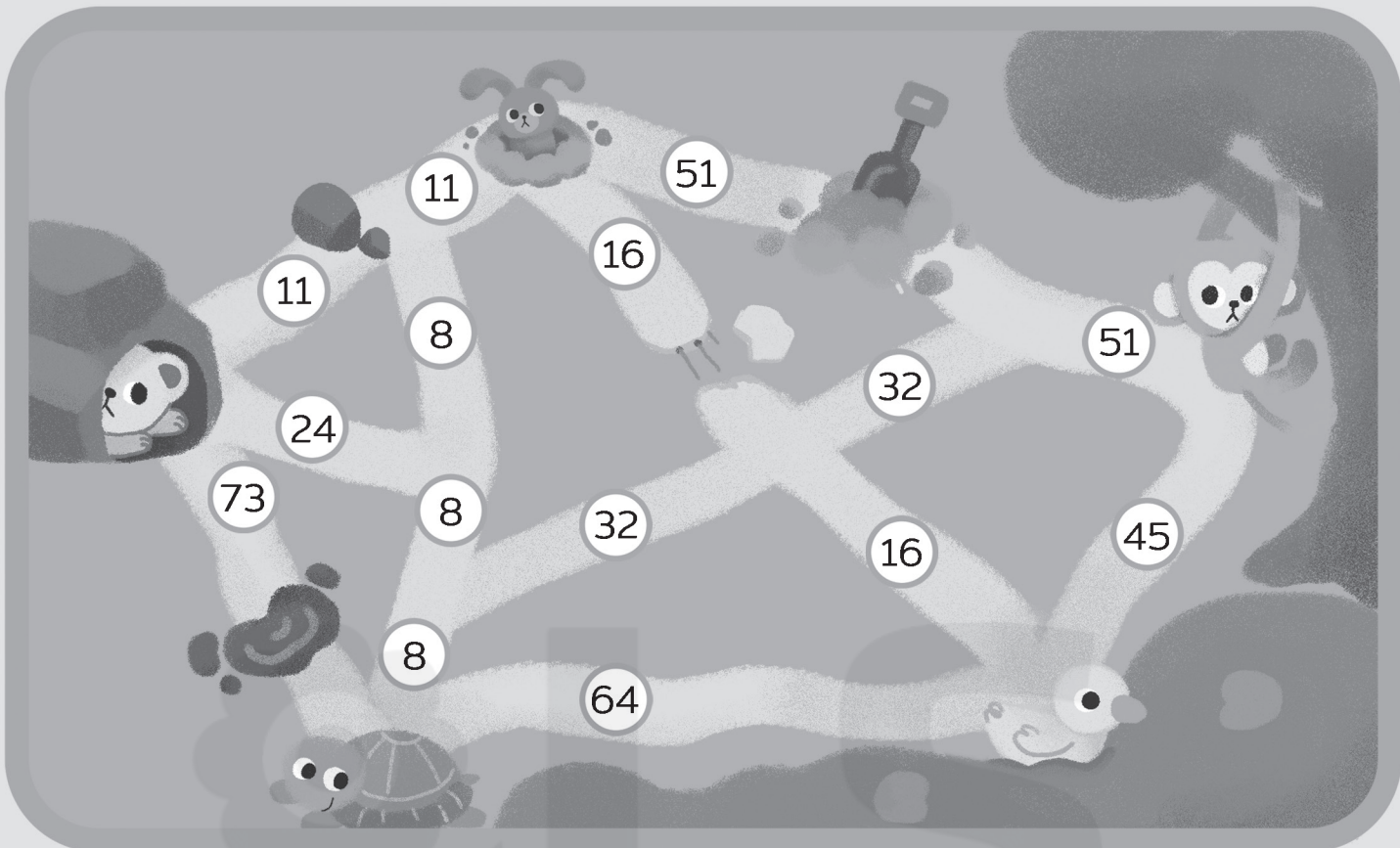




กระดาษ 3 ชั้นนี้ มาเรียงต่อกันเป็นภาพไหนได้
ให้ขีด ✓ ทับภาพนั้นให้หน่อยจะ





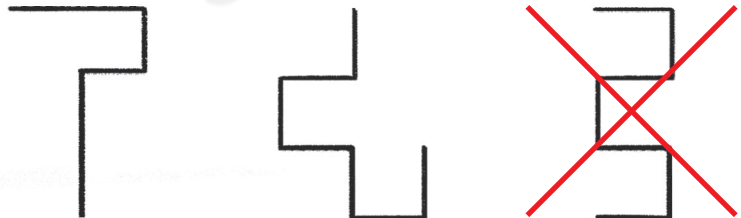






เด็ก ๆ ดูหมายเลขบนแผนที่ แล้วช่วยวาดรูปให้หน่อยว่าใครเดินทางไปหาใครนะ



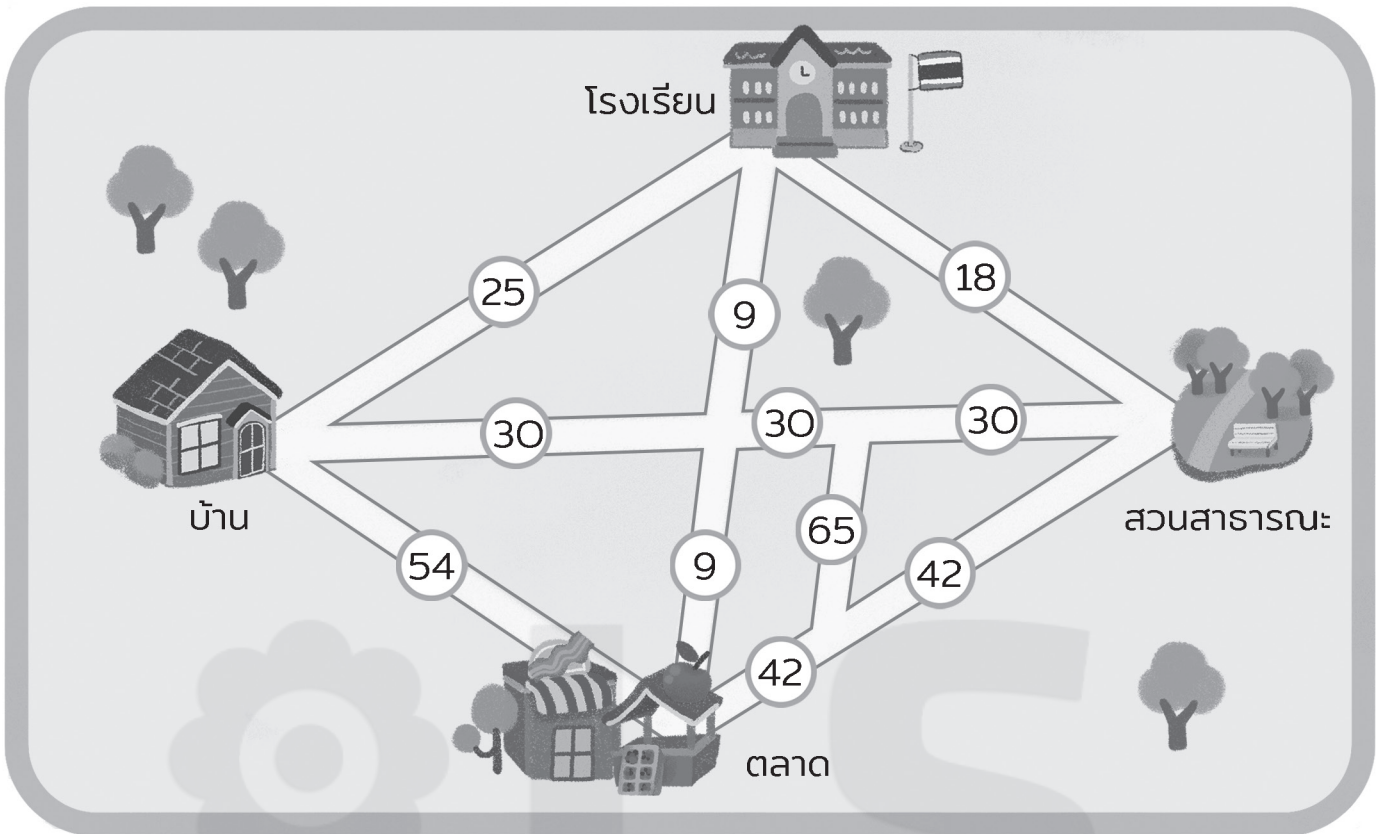
<p>ตัวอย่าง</p> <p>45 → 64</p>	 → 
<p>11 → 8</p>	<p>กระต่าย → เต่า</p>
<p>8 → 32 → 51</p>	<p>เต่า → ลิง</p>
<p>64 → 8 → 11</p>	<p>เปิด → กระต่าย</p>
<p>24 → 8 → 11</p>	<p>หมี → กระต่าย</p>
<p>24 → 8 → 32 → 16</p>	<p>หมี → เปิด</p>





















จากแผนที่บอกตำแหน่งของลูกหมา ลูกแมว ลูกนก ลูกเป็ด และลูกกระต่าย เด็ก ๆ กากบาท X ทับเส้นทางที่ลูกสัตว์เดินทาง ไปหากันให้หน่อยจ้ะ





เด็ก ๆ ดูแผนที่แล้วกากบาท X ทับหมายเลขถนน
ที่ทำให้หลงทางไปไม่ถึงจุดหมายน้อยจ้ะ



 → 	25	30 → 65
 → 	30 → 9	54 → 9
 → 	9 → 30	18
 → 	9 → 42	54 → 42
 → 	9	42 → 65 → 30
 → 	42 → 18	54 → 25
 → 	30	25 → 9 → 30
 → 	30 → 65 → 42	30 → 42
 → 	30 → 9	42
 → 	30 → 65	18 → 9

จากแผนผังบอกห้องของลูกสัตว์ 9 ตัว เด็ก ๆ ช่วยพาลูกสัตว์
กลับห้องโดยนำสติ๊กเกอร์ไปติดให้ถูกช่องนะคะ



- ✓ ลูกสัตว์ตัวนั้นเข้าห้องได้
- ✗ ลูกสัตว์ตัวนั้นเข้าห้องนี้ไม่ได้ แต่ตัวอื่นเข้าได้

		✓
	✓	

✓		
	✓	
		✗

✓		
		✗



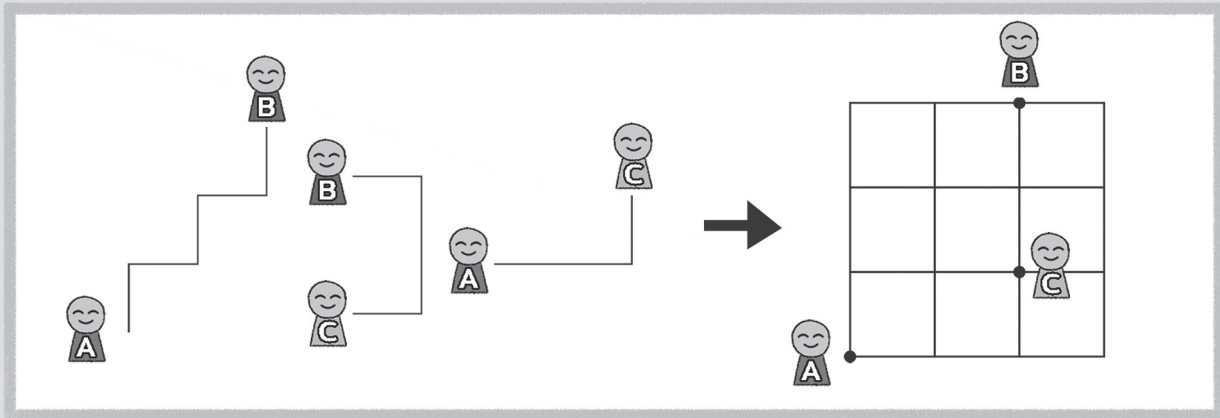
	✓	
✓		
		✓

	ห้องที่เหลือ ใครหายไปนะ !?	
		✓
✓		

✓		
		✗



เด็ก ๆ สังเกตเส้นทางการเดินของ A, B, C แล้วช่วยวาดรูป
ในตารางให้ถูกต้องตำแหน่งหน่อยจ้ะ



Practical



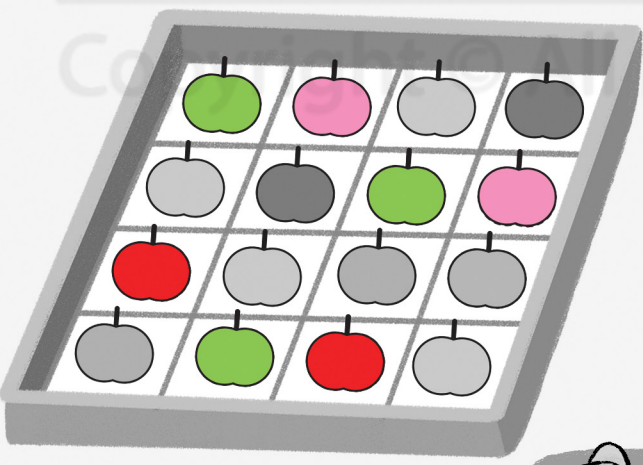


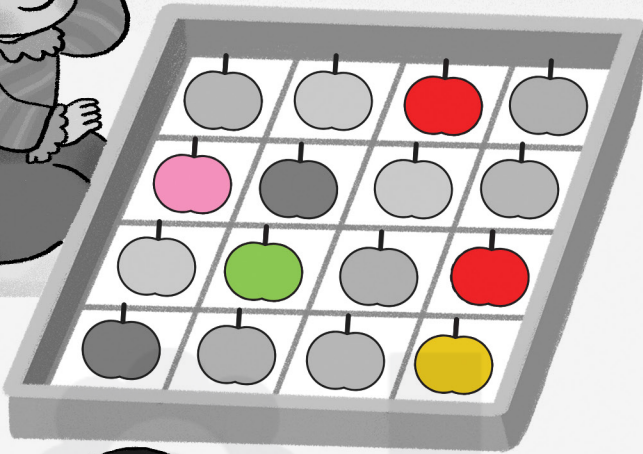
Copyright © All Right Reserved

Problem 1: Maze with paths A (black), B (blue), and C (yellow). Grid shows A at (1,3), B at (2,3), and C at (2,2).

Problem 2: Maze with paths A (black), B (blue), and C (yellow). Grid shows A at (1,2), B at (2,1), and C at (2,3).


Problem 3: Maze with paths A (black), B (blue), and C (yellow). Grid shows A at (1,2), B at (3,3), and C at (2,1).

เด็ก ๆ จัดเรียงแอปเปิ้ลสีแดง สีเขียว สีเหลือง และสีชมพูใส่กล่อง
โดยสีแอปเปิ้ลไม่ซ้ำกันทั้งในแนวนอน แนวตั้ง และแนวเฉียง
มาระบายสีแอปเปิ้ลในแต่ละช่องให้ถูกต้องนะคะ







ช้างน้อยมีเพื่อนเป็นใครบ้าง ถอดรหัส
แล้วนำสติ๊กเกอร์มาติดใน นะจ๊ะ



	E	D	C	L
	W	T	N	A
	I	K	R	G
	U	P	O	B



ตัวอย่าง = RAT



= **DOG**



= **COW**



= **PIG**



= **BEAR**



= **LION**



= **TIGER**



เพื่อนของช้างน้อยอยากมีรหัสชื่อบ้าง
เด็ก ๆ ดูตารางหน้า 38 และเขียนรหัสให้หน่อยนะจ๊ะ

ตัวอย่าง




CRAB




CAT



BIRD



DUCK




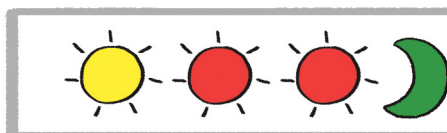
GOAT



BAT



DEER



เด็ก ๆ เขียนตัวเลขในช่องที่หายไปให้ครบ โดยตัวเลขในแนวนอน
แนวตั้ง และแนวเฉียงห้ามซ้ำกันนะจ๊ะ


2	3	4	1
1	4	3	2
3	2	1	4
4	1	2	3



3	1	2	4
4	2	1	3
1	3	4	2
2	4	3	1



2	4	1	3
3	1	4	2
4	2	3	1
1	3	2	4



2	1	4	3
3	4	1	2
1	2	3	4
4	3	2	1

